

## **Итоговая проверочная работа по технологии**

**4 класс**

Фамилия \_\_\_\_\_ Имя \_\_\_\_\_ Класс \_\_\_\_\_

### **Инструкция по выполнению работы**

На выполнение работы по технологии даётся 45 минут. Работа включает в себя 15 заданий.

Ответы на задания запиши в работе. Если ты хочешь изменить ответ, то зачеркни его и запиши рядом новый.

При выполнении работы не разрешается пользоваться учебником, рабочими тетрадями, справочными материалами.

При необходимости можно пользоваться черновиком. Записи в черновике проверяться и оцениваться не будут.

Советуем выполнять задания в том порядке, в котором они даны. Для экономии времени пропускай задание, которое не удаётся выполнить сразу, и переходи к следующему. Постарайся выполнить как можно больше заданий.

**Желаем успеха!**

**1. Отметь ответ ☒ Технология – это:**

- ☐ 1 знания о технике;
- ☐ 2 последовательность операций по обработке материала для изготовления изделия;
- ☐ 3 техническая характеристика изделия.

**2. Напиши пословицу о труде.**

---

---

---

**3. Отметь ☒ строительные профессии:**

<input type="checkbox"/>	1	штукатур
<input type="checkbox"/>	2	библиотекарь
<input type="checkbox"/>	3	крановщик
<input type="checkbox"/>	4	маляр
<input type="checkbox"/>	5	изготовитель лекал
<input type="checkbox"/>	6	кондитер
<input type="checkbox"/>	7	геолог
<input type="checkbox"/>	8	буровик

**4. Соедини линию чертежа и её название.**

-----	Основная линия видимого контура
////////////////////	Линия сгиба
_____	Место намазывания клеем

**5. Отметь ответ ☒ Фаянс – это одна из разновидностей:**

<input type="checkbox"/>	1	керамики
<input type="checkbox"/>	2	глины
<input type="checkbox"/>	3	стекла
<input type="checkbox"/>	4	пластмассы

6.Отметь ☒ верное утверждение: нефтепровод – это...

<input type="checkbox"/>	1	цистерна
<input type="checkbox"/>	2	трубопровод для перекачки нефти и продуктов её переработки
<input type="checkbox"/>	3	вагон для хранения нефти
<input type="checkbox"/>	4	ничего из перечисленного

7. Отметь ответ ☒ для чего человеку служит повседневная обувь?

<input type="checkbox"/>	1	Она защищает его от дождя, жары и холода
<input type="checkbox"/>	2	Служит только для красоты
<input type="checkbox"/>	3	Служит только для моды
<input type="checkbox"/>	4	Ничего из перечисленного

8. Напиши названия машин, которые облегчают труд человека в быту?  
( не менее трёх)

---

---

9. Отметь ответ ☒ Какой инструмент не используют при работе с древесиной?

<input type="checkbox"/>	1	Рубанок
<input type="checkbox"/>	2	Лобзик
<input type="checkbox"/>	3	Ножницы
<input type="checkbox"/>	4	Столярный нож

10. Распредели материалы, инструменты по группам: кисти, стеки, картон, игла, нитки ножницы, пластилин, краски,

Материалы	Инструменты

**11. Узнай и запиши названия материалов по их свойствам:**

- 1) гладкая, тонкая, мнётся, складывается, не тянется, разноцветная -  
это \_\_\_\_\_
- 2) плотный, плохо гнётся, не мнётся, не тянется, служит фоном для  
аппликации – это \_\_\_\_\_
- 3) разноцветный, при нагревании размягчается, пластичный –  
это \_\_\_\_\_

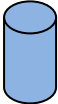

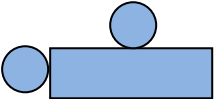
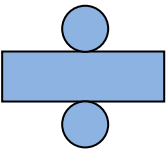
**12. Отметь ☒ правильный ответ**

<b>1). Смазывать детали клеем следует, разложив их на:</b>		
<input type="checkbox"/>	1	клеёнке или газете
<input type="checkbox"/>	2	подкладном листе
<input type="checkbox"/>	3	изнаночной стороне картона
<b>2). При работе с булавками следует:</b>		
<input type="checkbox"/>	1	класть булавки на стол
<input type="checkbox"/>	2	хранить булавки в игольнице
<input type="checkbox"/>	3	втыкать булавки в одежду
<b>3). Шаблон на материале необходимо размещать:</b>		
<input type="checkbox"/>	1	как можно ближе к краю материала
<input type="checkbox"/>	2	по центру материала
<input type="checkbox"/>	3	выходящим за края материала

**13. Установи правильную последовательность работы над мягкой игрушкой.  
Впиши номера в квадратики.**

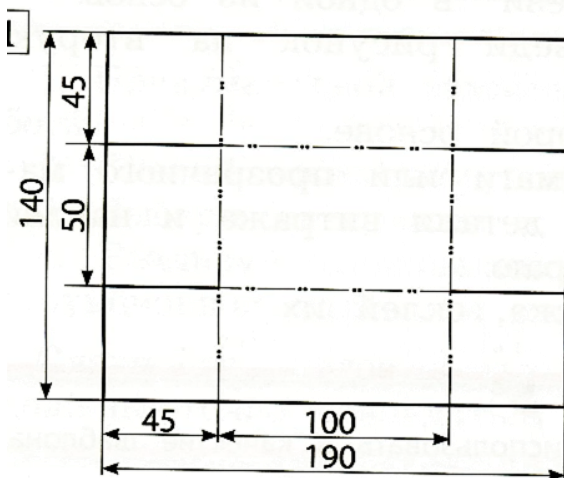
<input type="checkbox"/>	Подбор материала и подготовка его к работе
<input type="checkbox"/>	Создание объёмной формы отдельных деталей
<input type="checkbox"/>	Разметка деталей
<input type="checkbox"/>	Отделка (оформление) изделия
<input type="checkbox"/>	Сборка изделия
<input type="checkbox"/>	Раскрой деталей

14. Какая развёртка соответствует фигуре? Отметь ответ ☒

	<input type="checkbox"/>	1	
	<input type="checkbox"/>	2	
	<input type="checkbox"/>	3	

15. Отметь ☒ номер развертки коробки, в которой все размеры указаны верно.

1 ☐



2. ☐

